

Белова Саша
15

Всероссийская олимпиада по технологии
Школьный этап
Номинация «Культура дома, дизайн и технологии»
5-6 класс

(Тестовые задания 1-10 оцениваются в 1 балл, задание 11 – в 5 баллов)

1. Впишите пропущенное слово:

Проектная деятельность – это деятельность по созданию нового проекта, нужной услуги.

2. Выберите из предложенного списка наименования кухонной посуды:

а) кастрюля;

б) скалка;

в) пресс для чеснока;

г) заварочный чайник;

д) фольга для запекания.

3. В каких продуктах не содержатся углеводы?

Креветки, белый хлеб, куриное мясо, шоколад, макароны.

Ответ: шоколад.

4. Установите правильное соответствие:

1	закрытые бутерброды	А	маленькие закусочные бутерброды
2	сложные бутерброды	Б	бутерброды на обжаренном ломтике хлеба
3	грэнки	В	сэндвичи
4	канапе	Г	с несколькими продуктами

Ответ: 1 - Г, 2 - В, 3 - Б, 4 - А

5. Укажите, какие из высказываний являются верными, а какие не верными.

Высказывание	верно / не верно
1. Чем мягче вода, тем вкуснее чай	<u>не верно</u>
2. Чай улучшает пищеварение, придает ощущение бодрости	<u>верно</u>
3. Не рекомендуется заваривать чай в фарфоровых и глиняных чайниках	<u>верно</u>

6. Впишите пропущенные слова:




ткань волокна делятся на натуральные и искусственные.

7. Ответ на вопрос впишите в пустые клетки.

Как называется оформление помещения в определенном художественном стиле или внутренний вид помещения?

И Н Т Е РЬ Е Р

8. Поставьте в соответствие рисунки и виды орнамента.

1	Геометрический	А	
2	Зооморфный	Б	
3	Растительный	В	

Ответ: 1 - А, 2 - Б, 3 - В

9. Решите задачу.

Для изготовления одного изделия мастеру необходимо 0,6 м ткани. У него есть в наличии 20 м этой ткани. Хватит ли мастеру ткани для изготовления 30 изделий?

Решение: $0,6 \cdot 20 = 12,00$

$$120 : 30 = 4$$

Ответ: то да, хватит


10. Выберите из предложенного списка профессии, относящиеся к системе «человек – человек»: бухгалтер, фрезеровщик, учитель, психолог, инженер.

Ответ: психолог, учитель

11. Творческое задание



Творческое задание для 5 класса.

Выполните эскиз орнамента в полосе для последующей вышивки на льняном полотенце. Предложите цветовое решение орнамента.



Творческое задание для 6 класса

Предложите рецепты приготовления двух различных видов бутербродов. Выполните эскизы их внешнего вида.

Рецепт бутерброда	Эскиз внешнего вида
1. Хлеб, помидор, сыр, мясо, колбаса, огурец, капуста, зелень.	 A hand-drawn sketch of a sandwich. It consists of two slices of bread, one on top and one on bottom. The top slice is filled with several small circles representing different fillings like tomatoes, meat, and vegetables.
2. Булка, котлета, сыр, соус, селедка, лук.	 A hand-drawn sketch of a sandwich. It features a bun at the bottom, a layer of cutlet (kotleta) in the middle, and another bun on top. There are also some small circles representing other fillings. The word "булка" (bun) is written in blue ink with a line pointing to the bottom bun. The word "котлета" (cutlet) is written in blue ink with a line pointing to the middle layer.