

**Всероссийская олимпиада по технологии**  
**Школьный этап**  
**Номинация «Культура дома, дизайн и технологии»**  
**5-6 класс**

(Тестовые задания 1-10 оцениваются в 1 балл, задание 11 – в 5 баллов)

15+

**1. Впишите пропущенное слово:**

Проектная деятельность – это деятельность по созданию нового нужного

изделия, нужной услуги, нужной услуги.

15

**2. Выберите из предложенного списка наименования кухонной посуды:**

- а) кастрюля;
- б) скалка;
- в) пресс для чеснока;
- г) заварочный чайник;
- д) фольга для запекания.

**3. В каких продуктах не содержатся углеводы?**

Креветки, белый хлеб, куриное мясо, шоколад, макаронны.

Ответ: Макароны, Шоколад, Креветки

15+

**4. Установите правильное соответствие:**

1	закрытые бутерброды	А	маленькие закусочные бутерброды
2	сложные бутерброды	Б	бутерброды на обжаренном ломтике хлеба
3	гренки	В	сэндвичи
4	канапе	Г	с несколькими продуктами

Ответ: 1 - б, 2 - в, 3 - г, 4 - а

15

**5. Укажите, какие из высказываний являются верными, а какие не верными.**

Высказывание	верно / не верно
1. Чем мягче вода, тем вкуснее чай	<u>верно</u>
2. Чай улучшает пищеварение, придает ощущение бодрости	<u>верно</u>
3. Не рекомендуется заваривать чай в фарфоровых и глиняных чайниках	<u>не верно</u>

**6. Впишите пропущенные слова:**

\_\_\_\_\_ волокна делятся на натуральные и синтетические.

15




**7. Ответ на вопрос впишите в пустые клетки.**

Как называется оформление помещения в определенном художественном стиле или интерьер вид помещения?

И Н Т Е Р Ь Е Р



8. Поставьте в соответствие рисунки и виды орнамента.

1	Геометрический	А	
2	Зооморфный	Б	
3	Растительный	В	

Ответ: 1 - А, 2 - В, 3 - Б

9. Решите задачу.

Для изготовления одного изделия мастеру необходимо 0,6 м ткани. У него есть в наличии 20 м этой ткани. Хватит ли мастеру ткани для изготовления 30 изделий?

Решение:  $12 : 0,3 = 40$  из изделий можно сделать

$40 > 30$  - значит можно сделать.

Ответ: Да хватит

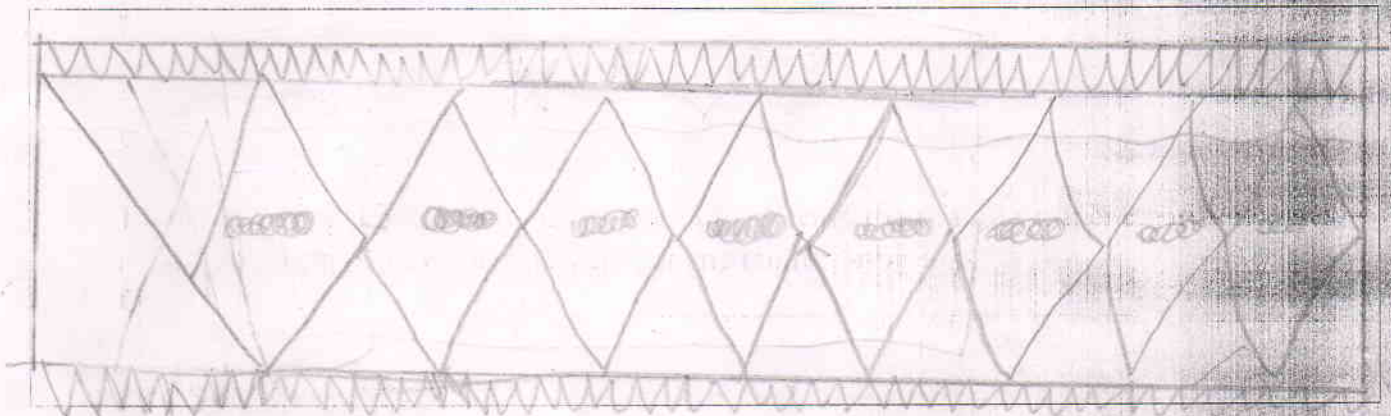
10. Выберите из предложенного списка профессии, относящиеся к системе «человек – человек»: бухгалтер, фрезеровщик, учитель, психолог, инженер.

Ответ: бухгалтер, учитель, психолог.

11. Творческое задание

Творческое задание для 5 класса.

Выполните эскиз орнамента в полосе для последующей вышивки на льняном полотнище. Предложите цветовое решение орнамента.





### Творческое задание для 6 класса

Предложите рецепты приготовления двух различных видов бутербродов. Выполните эскизы их внешнего вида.

Рецепт бутерброда	Эскиз внешнего вида
1.	
2.	